

Compétences évaluées	Exercices	Bilan
<p>1– Numération</p> <p>N1- Connaître (savoir écrire/nommer) les nombres entiers naturels inférieurs à 10 .</p> <p>N2- Comparer, ranger, encadrer ces nombres.</p> <p>N3- Écrire une suite de nombres dans l'ordre croissant ou décroissant.</p>		
<p>2– Calcul</p> <p>C1- Produire / reconnaître les décompositions additives des nombres $<$ à 5 ("table d'addition").</p> <p>C4- Calculer mentalement des sommes et des différences.</p> <p>C5- Calculer en ligne des sommes, des différences, des opérations à trous.</p>		
<p>3– Géométrie</p> <p>G2- Reconnaître et nommer un carré, un rectangle, un triangle.</p>		
<p>4– Grandeurs et mesures</p> <p>M3- Utiliser la règle graduée pour tracer des segments, comparer des longueurs.</p> <p>M4- Connaître et utiliser l'euro.</p>		

Evaluations période 1



1



Ecris les nombres dictés par la maîtresse.

2

Lis les nombres à la maîtresse.

9	8	2	5	3	7	4	1	0	6
---	---	---	---	---	---	---	---	---	---

3



Complète les configurations pour obtenir le nombre demandé.

3			
5			
7			
9			

4



Ecris les nombres.

3 - 8 - 2 - 6

--	--	--	--

1 - 8 - 6 - 4

--	--	--	--

5




Ecris les nombres dans les cases.




6

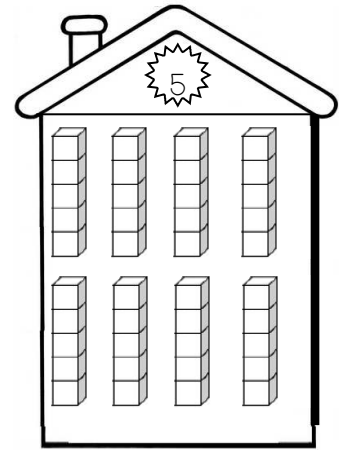
Colorie les cubes pour construire les maisons des nombres .



..... + = 3
 + = 3
 + = 3
 + = 3



..... + = 4
 + = 4
 + = 4
 + = 4



..... + = 5
 + = 5
 + = 5
 + = 5
 + = 5

7



Ecris le résultat des opérations dictées par la maîtresse.

□ □ □ □ □ □ □ □

8



Ecris le résultat des soustractions.

● ● ● 3	● ● ● 3 - 3 =
● ● ● ● 4 - 2 =	● ● ● ● 4 - 1 =
● ● ● ● ● 5 - 3 =	● ● ● ● ● 5 - 5 =



Ecris le résultat des additions.

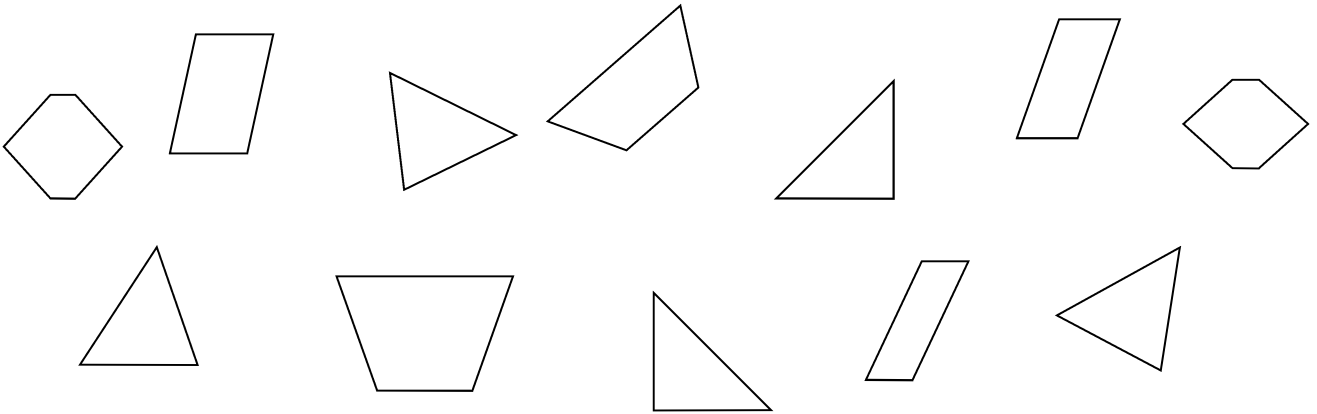
3 + 2 =	2 + 0 =	5 + 0 =
2 + 4 =	1 + 3 =	3 + 0 =
2 + 3 =	0 + 2 =	0 + 1 =
4 + 2 =	3 + 1 =	0 + 3 =



9




Colorie tous les triangles.



10

Trace proprement des traits avec ta règle.



11



Colorie les pièces.



4 €



7 €

