

# Fiche d'exercices 24

Groupements — Problèmes additifs et soustractifs

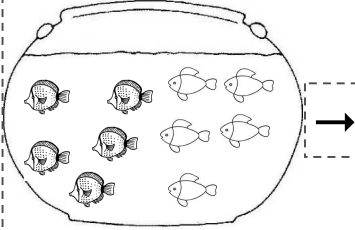
La numération



1 **écrits** Ecris une opération pour résoudre les problèmes.

Dans mon bocal il y a .... et ...

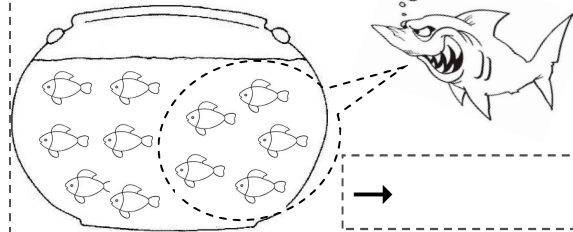
Combien y a-t-il de poissons en tout ?



Il y a .....poissons dans mon bocal .

Dans mon bocal il y a ...   
Le requin attrape 5 poissons.

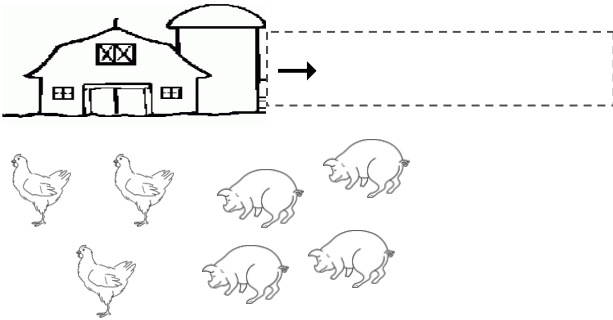
Combien reste-t-il de poissons ?



Il reste .....poissons dans mon bocal .

Dans ma ferme il y a .... et ...

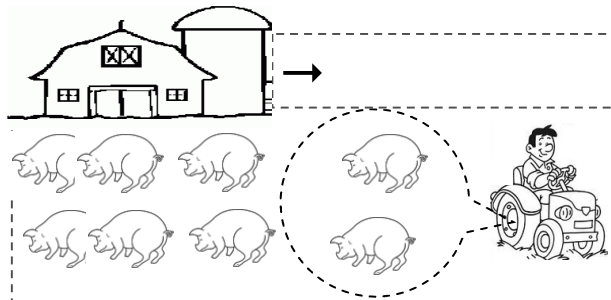
Combien y a-t-il d'animaux en tout ?



Il y a .....animaux dans ma ferme .

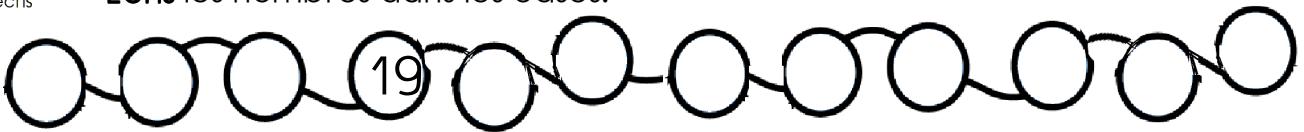
Dans ma ferme il y a ....   
Le fermier emmène 2 cochons.

Combien reste-t-il de cochons ?

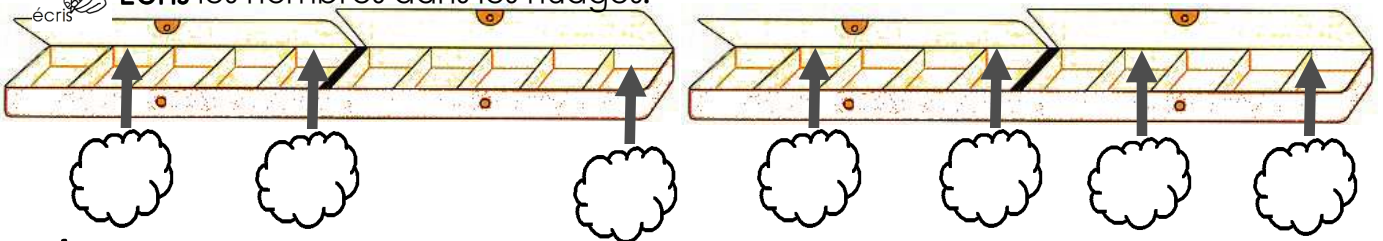


Il reste .....cochons dans ma ferme .

2 **écrits** Ecris les nombres dans les cases.



3 **écrits** Ecris les nombres dans les nuages.



4 **colorie** Reproduis le pavage.

b	r	r	b	r	r	b													
v	b	b	v	b	b	v													
r	v	v	r	v	v	r													






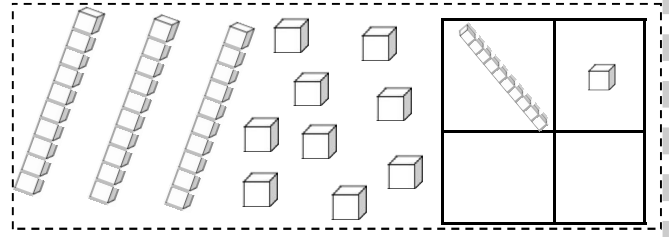
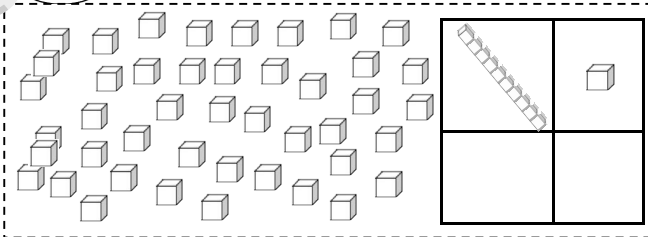
5 **Écris** les nombres .

17 - 19 - 13 - 21 - 3

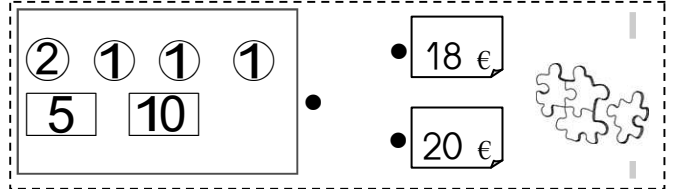
12 - 18 - 14 - 20 - 15



6 **Entoure** les nombres .

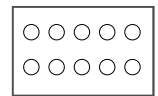


7 **Dessine** les pièces et/ou les billets.

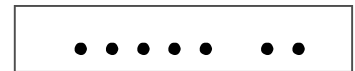
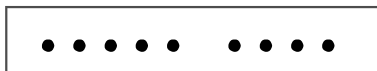


8 **Écris** la table des doubles.

..... + ..... = ..... | ..... + ..... = ..... | ..... + ..... = ..... | ..... + ..... = ..... | ..... + ..... = .....



9 **Complète** les soustractions.



$$9 - 5 = \dots$$

$$9 - 4 = \dots$$

$$9 - 3 = \dots$$

$$8 - 8 = \dots$$

$$8 - 7 = \dots$$

$$8 - 6 = \dots$$

$$7 - 2 = \dots$$

$$7 - 3 = \dots$$

$$7 - 4 = \dots$$

10 **Écris** le résultat des additions.

$$8 + 1 + 2 = \dots$$

$$4 + 0 = \dots$$

$$5 + 5 = \dots$$

$$5 + 4 - 1 = \dots$$

$$8 + 0 + 1 = \dots$$

$$4 + 1 = \dots$$

$$9 + 5 = \dots$$

$$4 + 3 - 2 = \dots$$

$$8 + 2 + 1 = \dots$$

$$4 + 2 = \dots$$

$$7 + 5 = \dots$$

$$2 + 4 - 1 = \dots$$

$$8 + 5 + 2 = \dots$$

$$4 + 3 = \dots$$

$$8 + 5 = \dots$$

$$3 + 5 - 1 = \dots$$





# Fiche d'exercices 24

Groupements — Problèmes additifs et soustractifs

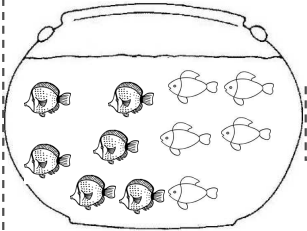
La numération





1 **Écris** une opération pour résoudre les problèmes.

Dans mon bocal il y a ....  et ... 

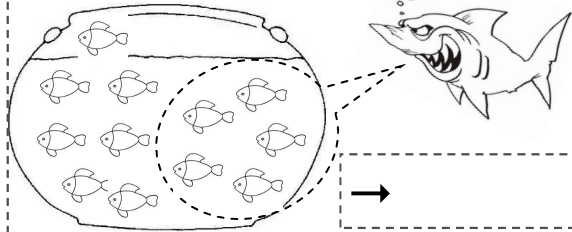
**Combien y a-t-il de poissons en tout ?**





Il y a .....poissons dans mon bocal .

Dans mon bocal il y a ...   
Le requin  attrape 5 poissons.


**Combien reste-t-il de poissons ?**




Il reste .....poissons dans mon bocal .

Dans ma ferme il y a ....  et ... 

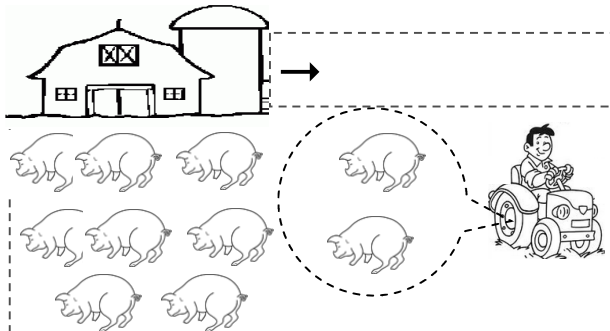
**Combien y a-t-il d'animaux en tout ?**



Il y a .....animaux dans ma ferme .

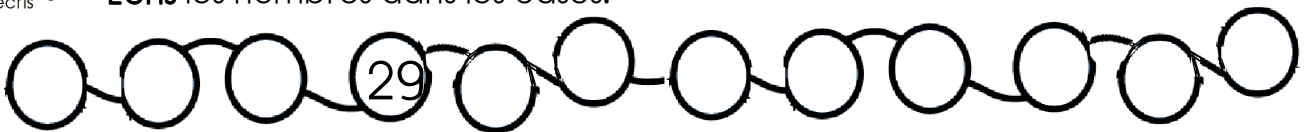
Dans ma ferme il y a ....   
Le fermier emmène 2 cochons.

**Combien reste-t-il de cochons ?**

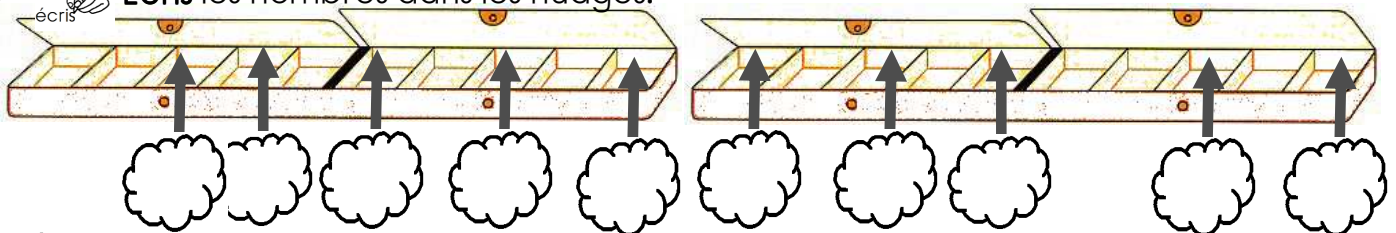


Il reste .....cochons dans ma ferme .

2 **Écris** les nombres dans les cases.



3 **Écris** les nombres dans les nuages.



4 **Reproduis** le pavage.

b	r	r	b	r	r	b													
v	b	b	v	b	b	v													
r	v	v	r	v	v	r													





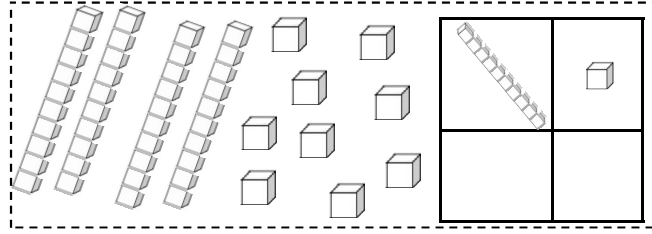
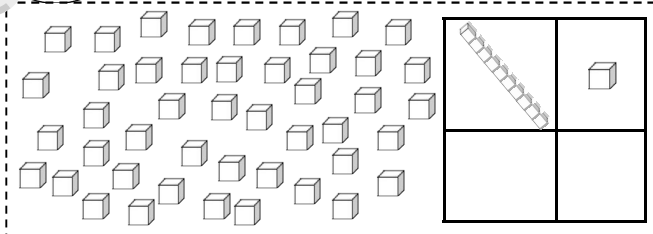
5 **écrits** Ecris les nombres .

17 - 27 - 7 - 37 - 10

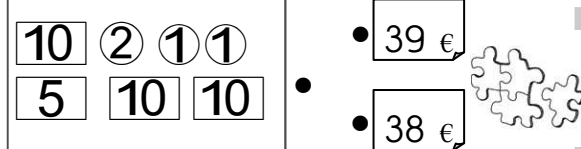

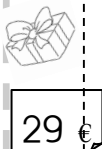
14 - 33 - 55 - 44 - 15



6 **entoures** Ecris les nombres .

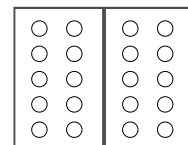


7 **Dessine** les pièces et/ou les billets.

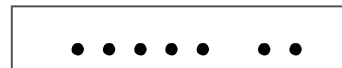
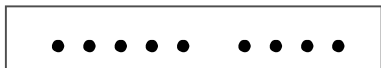


8 **écrits** Ecris la table des doubles.

..... + ..... = ..... | ..... + ..... = ..... | ..... + ..... = ..... | ..... + ..... = ..... | ..... + ..... = .....  
 ..... + ..... = ..... | ..... + ..... = ..... | ..... + ..... = .....



9 **écrits** Complète les soustractions.



9 - 5 = .....

9 - 4 = .....

9 - 3 = .....

8 - 8 = .....

8 - 7 = .....

8 - 6 = .....

7 - 2 = .....

7 - 3 = .....

7 - 4 = .....

6 - 0 = .....

6 - 6 = .....

6 - 5 = .....

10 **écrits** Ecris le résultat des additions.

8 + 1 + 2 = .....

4 + 0 = .....

6 + 5 = .....

5 + 4 - 1 = .....

8 + 0 + 1 = .....

4 + 1 = .....

8 + 5 = .....

4 + 3 - 2 = .....

8 + 2 + 1 = .....

4 + 2 = .....

6 + 5 = .....

2 + 4 - 1 = .....

8 + 1 + 2 = .....

4 + 3 = .....

9 + 5 = .....

3 + 5 - 1 = .....

2 8 + 2 + 2 = .....

4 + 4 = .....

5 + 5 = .....

2 + 8 - 1 = .....





# Fiche d'exercices 24

Groupements — Problèmes additifs et soustractifs

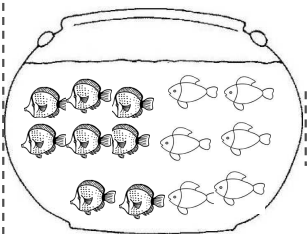
La numération





1 **Écris** une opération pour résoudre les problèmes.

Dans mon bocal il y a ....  et ... 

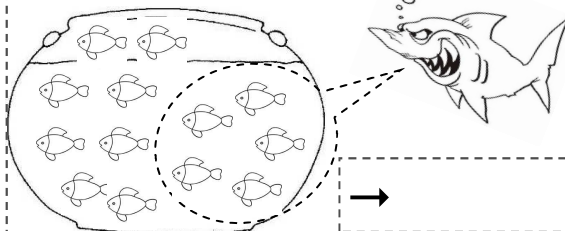
**Combien y a-t-il de poissons en tout ?**





Il y a .....poissons dans mon bocal .

Dans mon bocal il y a ...   
Le requin  attrape 5 poissons.


**Combien reste-t-il de poissons ?**




Il reste .....poissons dans mon bocal .

Dans ma ferme il y a ....  et ... 

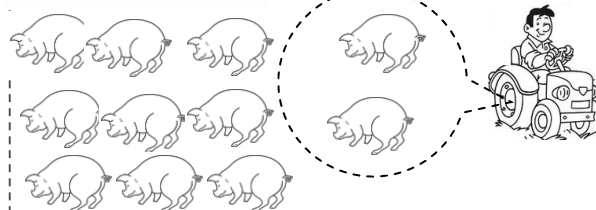
**Combien y a-t-il d'animaux en tout ?**



Il y a .....animaux dans ma ferme .

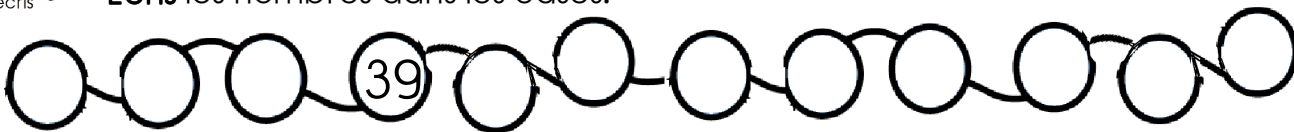
Dans ma ferme il y a .... 

Le fermier emmène 2 cochons.  
**Combien reste-t-il de cochons ?**

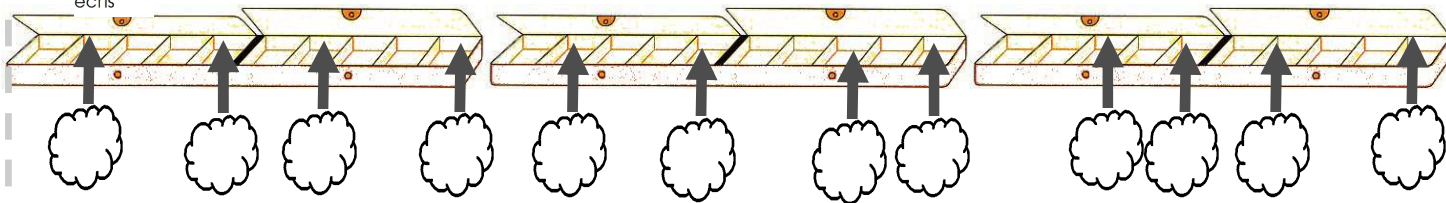


Il reste .....cochons dans ma ferme .

2 **Écris** les nombres dans les cases.




3 **Écris** les nombres dans les nuages.



4 **Reproduis** le pavage.

b	r	r	b	r	r	b													
v	b	b	v	b	b	v													
r	v	v	r	v	v	r													



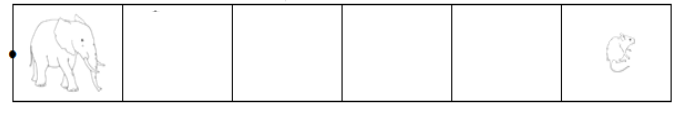
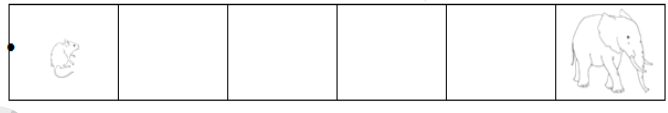


5 écris

Ecris les nombres .

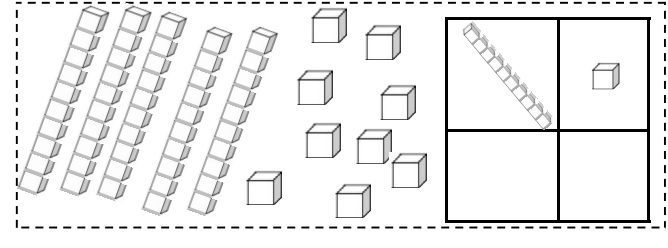
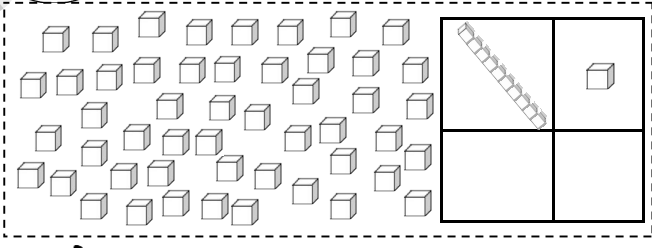
18 - 28 - 8 - 38 - 12 - 7

15 - 32 - 52 - 49 - 16 - 19



6 entoure

Ecris les nombres .



7

Dessine les pièces et/ou les billets.

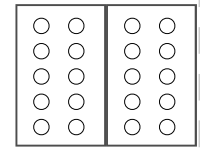
72 €      52 €      10 2 2 5      38 €      48 €

5 10 2 2

8 écris

Ecris la table des doubles.

..... + ..... = .....	..... + ..... = .....	..... + ..... = .....	..... + ..... = .....	..... + ..... = .....
..... + ..... = .....	..... + ..... = .....	..... + ..... = .....	..... + ..... = .....	..... + ..... = .....



9 écris

Complète les soustractions.

9 - 5 = .....	9 - 4 = .....	9 - 3 = .....	9 - 2 = .....
8 - 8 = .....	8 - 7 = .....	8 - 7 = .....	8 - 5 = .....
7 - 2 = .....	7 - 3 = .....	7 - 4 = .....	7 - 5 = .....
6 - 0 = .....	6 - 6 = .....	6 - 5 = .....	6 - 4 = .....
5 - 5 = .....	5 - 4 = .....	5 - 3 = .....	5 - 2 = .....

10 écris

Ecris le résultat des additions.

8 + 1 + 2 = .....	4 + 0 = .....	1 + ..... = 7	6 + 5 = .....	5 + 4 - 1 = .....
8 + 0 + 1 = .....	4 + 1 = .....	2 + ..... = 7	7 + 5 = .....	6 + 3 - 2 = .....
8 + 2 + 1 = .....	4 + 2 = .....	3 + ..... = 7	5 + 5 = .....	4 + 4 - 1 = .....
8 + 1 + 2 = .....	4 + 3 = .....	4 + ..... = 7	9 + 5 = .....	3 + 5 - 1 = .....
8 + 2 + 2 = .....	4 + 4 = .....	5 + ..... = 7	8 + 5 = .....	2 + 8 - 1 = .....
8 + 1 + 1 = .....	4 + 5 = .....	6 + ..... = 7	10 + 5 = .....	7 + 6 - 1 = .....

