

Fiche d'exercices 29


Additions « naturelles » - Problèmes additifs et soustractifs *La numération*



1





Groupe les points par 10 puis **dessine** les groupes à la manière de Dédé.




2





Ecris une opération pour résoudre les problèmes.

Dans mon château il y a  et 
Combien y a-t-il de fantômes en tout ?



Il y a fantômes dans mon château .

Dans mon château il y a ... 
 Le chasseur attrape 5 fantômes.
Combien reste-t-il de fantômes ?

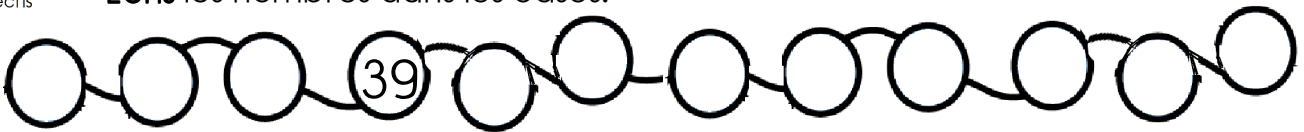


Il reste fantômes dans mon château .

3



Ecris les nombres dans les cases.



4



Ecris les nombres dans les cases.

+2	2	4												
----	---	---	--	--	--	--	--	--	--	--	--	--	--	--

+10	10	20												
-----	----	----	--	--	--	--	--	--	--	--	--	--	--	--

5



Reproduis le pavage.

r	v	r	v	r	v	r	v	r											
v	b	v	b	v	b	v	b	v											
b	r	r	r	b	r	r	r	b											

1





6 **écrits** Ecris les résultats des opérations, tu peux t'aider de ton ardoise.

..... + =

$$26 + 35 = \dots\dots\dots$$

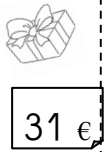
7 **écrits** Ecris les nombres .

29 - 35 - 39 - 45 - 17

14 - 18 - 8 - 21 - 10

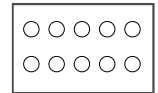


8 **dessine** Dessine les pièces et/ou les billets.



9 **écrits** Ecris la table des doubles.

..... + = | + = | + = | + = | + =



10 **écrits** Complète les soustractions.

$9 - 6 = \dots$

$9 - 5 = \dots$

$9 - 4 = \dots$

$8 - 3 = \dots$

$8 - 2 = \dots$

$8 - 1 = \dots$

$7 - 0 = \dots$

$7 - 6 = \dots$

$7 - 5 = \dots$

11 **écrits** Ecris le résultat des additions.

$4 + 6 + 9 = \dots\dots\dots$

$10 + 0 = \dots\dots\dots$

$9 + 3 = \dots\dots\dots$

$7 + 3 - 6 = \dots\dots\dots$

$4 + 6 + 2 = \dots\dots\dots$

$10 + 3 = \dots\dots\dots$

$9 + 2 = \dots\dots\dots$

$9 + 1 - 2 = \dots\dots\dots$

$4 + 6 + 5 = \dots\dots\dots$

$10 + 5 = \dots\dots\dots$

$9 + 4 = \dots\dots\dots$

$4 + 6 - 5 = \dots\dots\dots$

$4 + 6 + 1 = \dots\dots\dots$

$10 + 7 = \dots\dots\dots$

$9 + 5 = \dots\dots\dots$

$1 + 9 - 3 = \dots\dots\dots$



Fiche d'exercices 29

Additions « naturelles » - Problèmes additifs et soustractifs

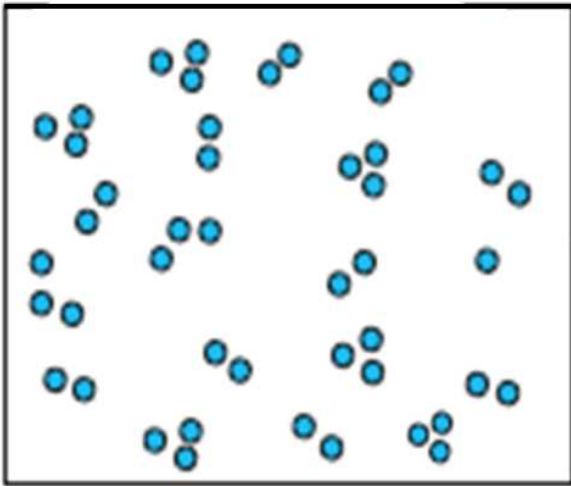
La numération



1

écrit



Groupe les points par 10 puis dessine les groupes à la manière de Dédé.




2


écrit


Ecris une opération pour résoudre les problèmes.

Dans mon château il y a  et 
Combien y a-t-il de fantômes en tout ?



Il y a fantômes dans mon château .

Dans mon château il y a ... 
Le chasseur attrape 6 fantômes.
Combien reste-t-il de fantômes ?



Il reste fantômes dans mon château .

3

écrit

Ecris les nombres dans les cases.



4

écrit

Ecris les nombres dans les cases.

+2	4	6								
+5	5	10								
+10	10	20								

5

colore

Reproduis le pavage.

r	v	r	v	r										
v	b	v	b	v										
b	r	r	r	b										





6 **écrits** Ecris les résultats des opérations, tu peux l'aider de ton ardoise.

26 + 35 =

7 **écrits** Ecris les nombres.

34 - 45 - 26 - 57 - 20

--	--	--	--	--

16 - 37 - 60 - 50 - 23

--	--	--	--	--

8 **dessine** Dessine les pièces et/ou les billets.

45 € 52 €

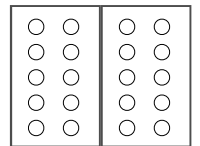
10	10		
10	5	1	1
5	5	5	

• 72 €

• 52 €

9 **écrits** Ecris la table des doubles.

..... + = + = + = + = + =
..... + = + = + = + = + =



10 **écrits** Complète les soustractions.

9 - 6 =

9 - 5 =

9 - 4 =

8 - 3 =

8 - 2 =

8 - 1 =

7 - 0 =

7 - 6 =

7 - 5 =

6 - 4 =

6 - 3 =

6 - 2 =

11 **écrits** Ecris le résultat des additions.

4 + 6 + 9 =

20 + 0 =

9 + 5 =

7 + 3 - 6 =

4 + 6 + 2 =

20 + 3 =

9 + 4 =

9 + 1 - 2 =

4 + 6 + 5 =

20 + 5 =

9 + 6 =

4 + 6 - 5 =

4 + 6 + 1 =

20 + 4 =

9 + 3 =

1 + 9 - 3 =

2 4 + 6 + 7 =

20 + 9 =

9 + 2 =

2 + 8 - 4 =



Fiche d'exercices 29

Additions « naturelles » - Problèmes additifs et soustractifs

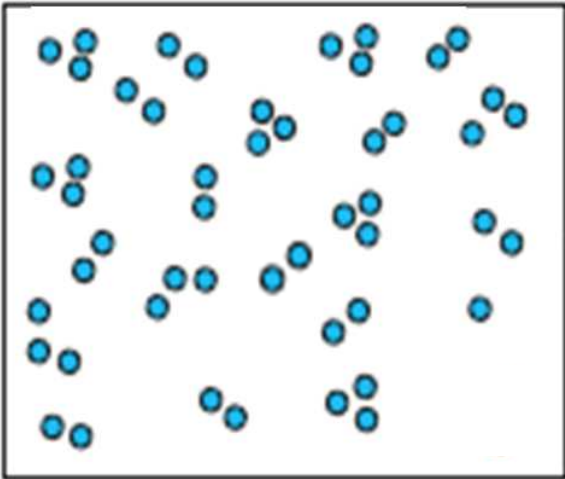
La numération



1

écrits



Groupe les points par 10 puis **dessine** les groupes à la manière de Dédé.




2


écrits


Ecris une opération pour résoudre les problèmes.

Dans mon château il y a  et 
Combien y a-t-il de fantômes en tout ?



Il y a fantômes dans mon château .

Dans mon château il y a ... 
 Le chasseur attrape 7 fantômes.
Combien reste-t-il de fantômes ?



Il reste fantômes dans mon château .

3

écrits

Ecris les nombres dans les cases.



4

écrits

Ecris les nombres dans les cases.

+2	6	8																
+5	10	15																
+10	10	20																

5

colorie

Reproduis le pavage.

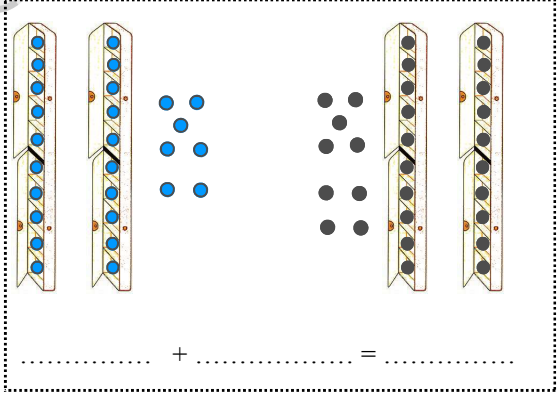
r	v	r	v	r														
v	b	v	b	v														
b	r	r	r	b														

1





6 **écris** Ecris les résultats des opérations, n'oublie pas de refaire un paquet de 10.



$$26 + 35 = \dots\dots\dots$$

7 **écris** Ecris les nombres .

26 - 36 - 16 - 46 - 19 - 15

22 - 40 - 60 - 56 - 24 - 27

--	--	--	--	--	--	--	--

--	--	--	--	--	--	--	--

8 **écris** Dessine les pièces et/ou les billets.

74 €

69 €

10	①	10	5
10	②	②	②
5	5	5	

57 €
62 €

9 **écris** Ecris la table des doubles.

..... + = + = + = + = + =
..... + = + = + = + = + =

○	○	○	○
○	○	○	○
○	○	○	○
○	○	○	○
○	○	○	○

10 **écris** Complète les soustractions.

9 - 6 =	9 - 5 =	9 - 4 =	9 - 3 =
8 - 2 =	8 - 1 =	8 - 0 =	8 - 8 =
7 - 7 =	7 - 6 =	7 - 5 =	7 - 4 =
6 - 3 =	6 - 2 =	6 - 1 =	6 - 0 =
5 - 1 =	5 - 2 =	5 - 3 =	5 - 4 =

11 **écris** Ecris le résultat des additions.

1 + 9 + 9 =	40 + 0 =	10 + 20 =	38 + 20 =	7 + 3 - 6 =
1 + 9 - 2 =	60 + 2 =	30 + 20 =	35 + 10 =	9 + 1 - 2 =
1 + 9 + 5 =	30 + 7 =	40 + 20 =	39 + 30 =	4 + 6 - 5 =
1 + 9 - 1 =	70 + 3 =	50 + 20 =	31 + 10 =	1 + 9 - 3 =
1 + 9 + 7 =	50 + 4 =	20 + 20 =	32 + 40 =	2 + 8 - 4 =
1 + 9 - 8 =	80 + 5 =	60 + 20 =	37 + 50 =	5 + 5 - 10 =

