

# Fiche d'exercices 32

Additions en colonne avec retenue - Décompositions



1 **écris** Décompose les nombres.

$10 + 10 + 10 + 10 + 4 = \dots$

$43 = \dots$

$10 + 10 + 10 + 7 = \dots$

$58 = \dots$

2 **écris** les nombres dans l'ordre croissant et décroissant.


$46 - 35 - 69 - 37 - 72$

$46 - 60 - 40 - 33 - 22$




3 **écris** une opération pour résoudre les problèmes.

Dans mon château il y a ..... et .....   
**Combien y a-t-il de fantômes en tout ?**



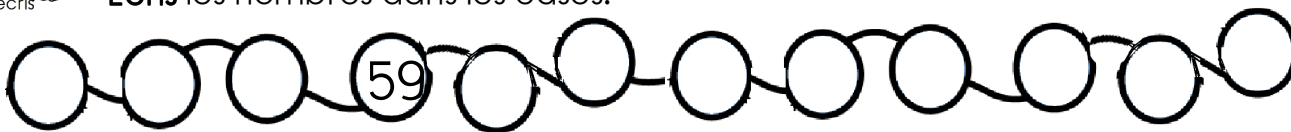
Il y a ..... fantômes dans mon château .

Dans mon château il y a ...   
 Le chasseur attrape 4 fantômes.  
**Combien reste-t-il de fantômes ?**



Il reste ..... fantômes dans mon château .

4 **écris** les nombres dans les cases.



5 **écris** les nombres dans les cases.

+2	2													
----	---	--	--	--	--	--	--	--	--	--	--	--	--	--

+10	10													
-----	----	--	--	--	--	--	--	--	--	--	--	--	--	--

6 **colorie** Reproduis le pavage.

r	v	r	v	r										
v	b	v	b	v										
b	r	r	r	b										





6  **Ecris** les résultats des opérations, tu peux t'aider de ton ardoise.

$27 + 15 = \dots\dots\dots$

d	u
○	
.....	.....
+	
.....	.....
.....	.....

$25 + 36 = \dots\dots\dots$

d	u
○	
.....	.....
+	
.....	.....
.....	.....

$24 + 43 = \dots\dots\dots$

d	u
○	
.....	.....
+	
.....	.....
.....	.....

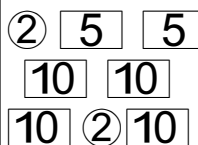
$33 + 33 = \dots\dots\dots$

d	u
○	
.....	.....
+	
.....	.....
.....	.....

8  **Dessine** les pièces et/ou les billets.



46 €



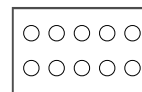
• 64 €

• 54 €



9  **Ecris** la table des doubles.

..... + ..... = ..... | ..... + ..... = ..... | ..... + ..... = ..... | ..... + ..... = ..... | ..... + ..... = .....



10  **Complète** les soustractions.

$9 - 3 = \dots$

$9 - 4 = \dots$

$9 - 5 = \dots$

$8 - 7 = \dots$


$8 - 8 = \dots$

$8 - 0 = \dots$

$7 - 2 = \dots$

$7 - 3 = \dots$

$7 - 4 = \dots$

11  **Ecris** le résultat des additions.

$10 + 2 + 5 = \dots\dots\dots$

$20 + 0 = \dots\dots\dots$

$38 + 20 = \dots\dots\dots$

$2 + 8 - 4 = \dots\dots\dots$

$10 + 3 + 4 = \dots\dots\dots$

$40 + 7 = \dots\dots\dots$

$57 + 10 = \dots\dots\dots$

$3 + 7 - 5 = \dots\dots\dots$

$10 + 6 + 5 = \dots\dots\dots$

$40 + 20 = \dots\dots\dots$

$21 + 30 = \dots\dots\dots$

$7 + 3 - 6 = \dots\dots\dots$

$10 + 7 + 1 = \dots\dots\dots$

$50 + 30 = \dots\dots\dots$

$52 + 20 = \dots\dots\dots$

$9 + 1 - 3 = \dots\dots\dots$



# Fiche d'exercices 32

Additions en colonne avec retenue - Décompositions



1 **écris** Décompose les nombres en suivant l'exemple.

$10 + 10 + 10 + 10 + 4 = \dots\dots$        $79 = \dots\dots\dots$

$10 + 10 + 10 + 10 + 10 + 7 = \dots\dots$        $62 = \dots\dots\dots$

$10 + 10 + 10 + 10 + 10 + 10 + 7 = \dots\dots$        $54 = \dots\dots\dots$

2 **écris** Ecris les nombres dans l'ordre croissant et décroissant.

46 - 59 - 42 - 75 - 39


26 - 47 - 70 - 60 - 33

--	--	--	--	--

--	--	--	--	--


3 **écris** Ecris une opération pour résoudre les problèmes.

Dans mon château il y a ..... et .....   
**Combien y a-t-il de fantômes en tout ?**



Il y a ..... fantômes dans mon château .

Dans mon château il y a ...   
 Le chasseur attrape 2 fantômes.  
**Combien reste-t-il de fantômes ?**



Il reste ..... fantômes dans mon château .

4 **écris** Ecris les nombres dans les cases.



5 **écris** Ecris les nombres dans les cases.

+2	2												
+5	5												
+10	10												

6 **colorie** Reproduis le pavage.

r	v	r	v	r									
v	b	v	b	v									
b	r	r	r	b									





6  **Ecris** les résultats des opérations, tu peux t'aider de ton ardoise.

$47 + 25 = \dots\dots\dots$

d	u
○	
.....	.....
+	.....
.....	.....
.....	.....

$35 + 46 = \dots\dots\dots$

d	u
○	
.....	.....
+	.....
.....	.....
.....	.....


$34 + 53 = \dots\dots\dots$

d	u
○	
.....	.....
+	.....
.....	.....
.....	.....

$43 + 45 = \dots\dots\dots$

d	u
○	
.....	.....
+	.....
.....	.....
.....	.....

8  **Dessine** les pièces et/ou les billets.




62 €
------



75 €
------

10	10	5	
10	①	①	
5	10	10	①

- 73 €
- 63 €



9  **Ecris** la table des doubles.

..... + ..... = .....	..... + ..... = .....	..... + ..... = .....	..... + ..... = .....	..... + ..... = .....
..... + ..... = .....	..... + ..... = .....	..... + ..... = .....	..... + ..... = .....	..... + ..... = .....

○ ○	○ ○
○ ○	○ ○
○ ○	○ ○
○ ○	○ ○

10  **Complète** les soustractions.

9 - 3 = .....	9 - 4 = .....	9 - 5 = .....
8 - 7 = .....	8 - 8 = .....	8 - 0 = .....
7 - 2 = .....	7 - 3 = .....	7 - 4 = .....
6 - 6 = .....	6 - 0 = .....	6 - 1 = .....

11  **Ecris** le résultat des additions.

10 + 2 + 5 = .....	50 + 0 = .....	30 + 20 = .....	48 + 20 = .....	2 + 8 - 3 = .....
10 + 3 + 4 = .....	40 + 7 = .....	60 + 10 = .....	46 + 30 = .....	3 + 7 - 5 = .....
10 + 4 + 5 = .....	30 + 9 = .....	70 + 20 = .....	59 + 20 = .....	7 + 3 - 4 = .....
10 + 6 + 3 = .....	20 + 4 = .....	30 + 50 = .....	27 + 10 = .....	9 + 1 - 2 = .....
10 + 8 + 2 = .....	10 + 8 = .....	40 + 20 = .....	37 + 40 = .....	5 + 5 - 1 = .....



# Fiche d'exercices 32

Additions en colonne avec retenue - Décompositions



1 **écris** Décompose les nombres en suivant l'exemple.

$10 + 10 + 10 + 10 + 4 = \dots\dots$      $42 = \dots\dots\dots$      $17 = \dots\dots\dots$

$10 + 10 + 10 + 10 + 10 + 7 = \dots\dots$      $32 = \dots\dots\dots$      $23 = \dots\dots\dots$

$10 + 10 + 10 + 10 + 10 + 10 + 9 = \dots\dots$      $85 = \dots\dots\dots$

$10 + 10 + 10 + 10 + 10 + 10 + 9 = \dots\dots$      $99 = \dots\dots\dots$

2 **écris** Ecris les nombres dans l'ordre croissant et décroissant.

39 - 49 - 29 - 53 - 23 - 26


46 - 56 - 77 - 71 - 34 - 73

--	--	--	--	--	--

--	--	--	--	--	--


3 **écris** Ecris une opération pour résoudre les problèmes.

Dans mon château il y a ..... et .....   
Combien y a-t-il de fantômes en tout ?



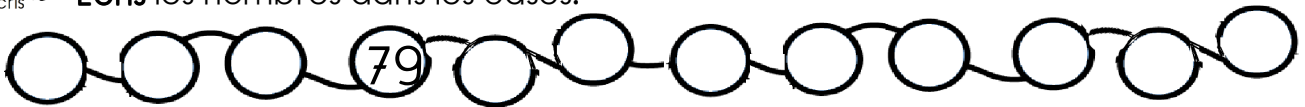
Il y a ..... fantômes dans mon château .

Dans mon château il y a ...   
Le chasseur attrape 2 fantômes.  
Combien reste-t-il de fantômes ?



Il reste ..... fantômes dans mon château .

4 **écris** Ecris les nombres dans les cases.



5 **écris** Ecris les nombres dans les cases.

+2	2																		
+4	4																		
+5	5																		
+10	10																		

6 **colonne** Reproduis le pavage.

r	v	r	v	r															
v	b	v	b	v															
b	r	r	r	b															





7

écrits

Ecris les résultats des opérations, n'oublie pas de refaire un paquet de 10.

57 + 25 = .....

d	u
○	
.....	.....
+	
.....	.....
.....	.....

45 + 46 = .....

d	u
○	
.....	.....
+	
.....	.....
.....	.....

34 + 63 = .....

d	u
○	
.....	.....
+	
.....	.....
.....	.....

45 + 54 = .....

d	u
○	
.....	.....
+	
.....	.....
.....	.....

8

écrits

Dessine les pièces et/ou les billets.



93 €



85 €

10	①	10	5
10	②	②	
5	10	5	5

65 €

85 €



9

écrits

Ecris la table des doubles.

..... + ..... = .....	..... + ..... = .....	..... + ..... = .....	..... + ..... = .....	..... + ..... = .....
..... + ..... = .....	..... + ..... = .....	..... + ..... = .....	..... + ..... = .....	..... + ..... = .....

○ ○	○ ○
○ ○	○ ○
○ ○	○ ○
○ ○	○ ○
○ ○	○ ○

10

écrits

Complète les soustractions.

9 - 3 = .....	9 - 4 = .....	9 - 5 = .....	9 - 6 = .....
8 - 7 = .....	8 - 8 = .....	8 - 0 = .....	8 - 1 = .....
7 - 2 = .....	7 - 3 = .....	7 - 4 = .....	7 - 5 = .....
6 - 6 = .....	6 - 0 = .....	6 - 1 = .....	6 - 2 = .....
5 - 3 = .....	5 - 4 = .....	5 - 5 = .....	5 - 2 = .....

11

écrits

Ecris le résultat des additions.

10 + 2 + 8 = .....	50 + 0 = .....	40 + 30 = .....	57 + 10 = .....	2 + 8 - 3 = .....
10 + 9 - 3 = .....	70 + 2 = .....	70 + 20 = .....	15 + 20 = .....	3 + 7 - 4 = .....
10 + 10 - 4 = .....	40 + 7 = .....	50 + 30 = .....	69 + 20 = .....	7 + 3 - 4 = .....
10 + 8 - 2 = .....	30 + 3 = .....	50 + 10 = .....	51 + 30 = .....	9 + 1 - 6 = .....
10 + 7 - 3 = .....	20 + 4 = .....	30 + 40 = .....	42 + 30 = .....	8 + 2 - 7 = .....
10 + 5 - 1 = .....	60 + 5 = .....	90 + 10 = .....	35 + 60 = .....	5 + 5 - 8 = .....

