

Fiche d'exercices 33

Additions en colonne avec retenue - Décompositions



1 écris **Décompose** les nombres.

$10 + 10 + 10 + 10 + 8 = \dots$

$56 = \dots$

$10 + 10 + 10 + 1 = \dots$

$67 = \dots$

2 écris les nombres dans l'ordre croissant et décroissant.

47 - 37 - 72 - 41 - 77


47 - 62 - 43 - 34 - 27

--	--	--	--	--

--	--	--	--	--


3 écris une opération pour résoudre les problèmes.

Dans mon château il y a et
Combien y a-t-il de fantômes en tout ?



Il y a fantômes dans mon château .

Dans mon château il y a ...
Le chasseur attrape 7 fantômes.
Combien reste-t-il de fantômes ?



Il reste fantômes dans mon château .

4 écris les nombres dans les cases.

				62									
--	--	--	--	----	--	--	--	--	--	--	--	--	--

													0	
--	--	--	--	--	--	--	--	--	--	--	--	--	---	--

5 écris les nombres dans les cases.

+2	2													
----	---	--	--	--	--	--	--	--	--	--	--	--	--	--

+10	10													
-----	----	--	--	--	--	--	--	--	--	--	--	--	--	--

6 **colorie** Reproduis le pavage.

r	v	r	v	r										
v	b	v	b	v										
b	r	r	r	b										





6  **Ecris** les résultats des opérations, tu peux t'aider de ton ardoise.

$37 + 25 = \dots\dots\dots$

d	u
○	
.....
+	
.....
.....

$35 + 26 = \dots\dots\dots$

d	u
○	
.....
+	
.....
.....

$23 + 32 = \dots\dots\dots$

d	u
○	
.....
+	
.....
.....

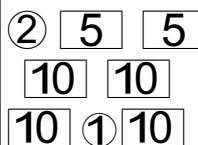
$23 + 25 = \dots\dots\dots$

d	u
○	
.....
+	
.....
.....

8  **Dessine** les pièces et/ou les billets.



51 €

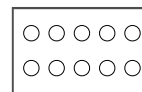


• 53 €
• 63 €



9  **Ecris** la table des doubles.

..... + = | + = | + = | + = | + =



10  **Complète** les soustractions.

$9 - 1 = \dots$

$9 - 2 = \dots$

$9 - 8 = \dots$

$8 - 7 = \dots$

$8 - 6 = \dots$

$8 - 2 = \dots$

$7 - 6 = \dots$

$7 - 5 = \dots$

$7 - 3 = \dots$

11  **Ecris** le résultat des additions.

$10 + 8 - 7 = \dots\dots\dots$

$30 + 0 = \dots\dots\dots$

$35 + 30 = \dots\dots\dots$

$2 + 8 - 2 = \dots\dots\dots$

$10 + 9 - 2 = \dots\dots\dots$

$50 + 7 = \dots\dots\dots$

$54 + 20 = \dots\dots\dots$

$3 + 7 - 5 = \dots\dots\dots$

$10 + 10 - 3 = \dots\dots\dots$

$60 + 20 = \dots\dots\dots$

$23 + 40 = \dots\dots\dots$

$7 + 3 - 7 = \dots\dots\dots$

$10 + 7 - 6 = \dots\dots\dots$

$40 + 50 = \dots\dots\dots$

$54 + 10 = \dots\dots\dots$

$9 + 1 - 8 = \dots\dots\dots$



Fiche d'exercices 33

Additions en colonne avec retenue - Décompositions



1 **écris** Décompose les nombres en suivant l'exemple.

$10 + 10 + 10 + 10 + 9 = \dots\dots$

$69 = \dots\dots\dots$

$10 + 10 + 10 + 10 + 10 + 4 = \dots\dots$

$52 = \dots\dots\dots$

2 **écris** Ecris les nombres dans l'ordre croissant et décroissant.

45 - 61 - 44 - 73 - 32


28 - 44 - 71 - 59 - 36

--	--	--	--	--	--

--	--	--	--	--	--


3 **écris** Ecris une opération pour résoudre les problèmes.

Dans mon château il y a et
Combien y a-t-il de fantômes en tout ?



Il y a fantômes dans mon château .

Dans mon château il y a ...
Le chasseur attrape 8 fantômes.
Combien reste-t-il de fantômes ?



Il reste fantômes dans mon château .

4 **écris** Ecris les nombres dans les cases.

				71										

5 **écris** Ecris les nombres dans les cases.

+2	2												
+5	5												
+10	10												

6 **colore** Reproduis le pavage.

r	v	r	v	r									
v	b	v	b	v									
b	r	r	r	b									





6 **Ecris** les résultats des opérations, tu peux t'aider de ton ardoise.

46 + 27 =

d	u
○	
.....
+
.....
.....

35 + 26 =

d	u
○	
.....
+
.....
.....

43 + 35 =

d	u
○	
.....
+
.....
.....

23 + 25 =

d	u
○	
.....
+
.....
.....

8 **Dessine** les pièces et/ou les billets.



64 €



75 €

10	10	5	
10	①	①	②
5	10	10	①

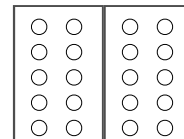
• 69 €

• 74 €



9 **Ecris** la table des doubles.

..... + = + = + = + = + =
..... + = + = + = + = + =



10 **Complète** les soustractions.

9 - 1 =

9 - 2 =

9 - 8 =

8 - 7 =

8 - 6 =

8 - 2 =

7 - 6 =

7 - 5 =

7 - 3 =

6 - 5 =

6 - 3 =

6 - 2 =

11 **Ecris** le résultat des additions.

10 + 8 - 7 =

50 + 0 =

40 + 20 =

58 + 20 =

2 + 8 - 2 =

10 + 9 - 2 =

80 + 7 =

60 + 10 =

36 + 30 =

3 + 7 - 5 =

10 + 10 - 3 =

50 + 5 =

50 + 30 =

49 + 20 =

7 + 3 - 7 =

10 + 7 - 6 =

60 + 1 =

10 + 60 =

37 + 10 =

9 + 1 - 8 =

10 + 5 - 3 =

40 + 8 =

20 + 30 =

27 + 40 =

5 + 5 - 3 =



Fiche d'exercices 33

Additions en colonne avec retenue - Décompositions



1 **écrits** Décompose les nombres en suivant l'exemple.

$10 + 10 + 10 + 10 + 9 = \dots\dots$ $47 = \dots\dots\dots$ $14 = \dots\dots\dots$
 $10 + 10 + 10 + 10 + 10 + 6 = \dots\dots$ $31 = \dots\dots\dots$ $25 = \dots\dots\dots$

2 **écrits** Ecris les nombres dans l'ordre croissant et décroissant.

40 - 51 - 32 - 57 - 28 - 33

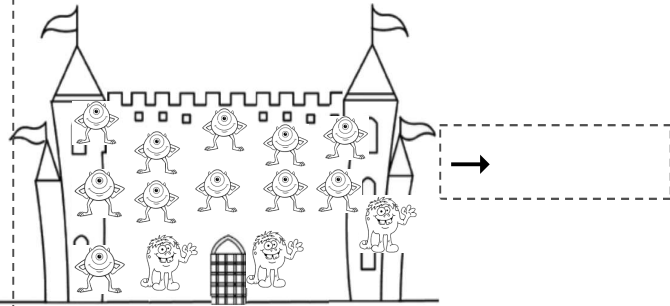
45 - 58 - 75 - 74 - 38 - 79

--	--	--	--	--	--

--	--	--	--	--	--


3 **écrits** Ecris une opération pour résoudre les problèmes.

Dans mon château il y a et
Combien y a-t-il de fantômes en tout ?



Il y a fantômes dans mon château .

Dans mon château il y a ...
 Le chasseur attrape **10** fantômes.
Combien reste-t-il de fantômes ?



Il reste fantômes dans mon château .

4 **écrits** Ecris les nombres dans les cases.

	○	○	○	81	○	○	○	○	○	○		
	○	○	○	○	○	○	○	○	○	○	0	

5 **écrits** Ecris les nombres dans les cases.

+2	2																		
+3	3																		
+5	5																		
+10	10																		

6 **colorie** Reproduis le pavage.

r	v	r	v	r															
v	b	v	b	v															
b	r	r	r	b															





7

écrits

Ecris les résultats des opérations, n'oublie pas de refaire un paquet de 10.

46 + 37 =

d	u
○	
.....
+	
.....
.....

56 + 20 =

d	u
○	
.....
+	
.....
.....

36 + 63 =

d	u
○	
.....
+	
.....
.....

28 + 51 =

d	u
○	
.....
+	
.....
.....

8

écrits

Dessine les pièces et/ou les billets.



10€



90€

10	①	10	5
10	②	②	②
5	10	5	5

• 67€

• 87€



9

écrits

Ecris la table des doubles.

..... + = + = + = + = + =
..... + = + = + = + = + =

○ ○	○ ○
○ ○	○ ○
○ ○	○ ○
○ ○	○ ○
○ ○	○ ○

10

écrits

Complète les soustractions.

9 - 1 =	9 - 2 =	9 - 8 =	9 - 7 =
8 - 7 =	8 - 6 =	8 - 2 =	8 - 1 =
7 - 6 =	7 - 5 =	7 - 4 =	7 - 3 =
6 - 5 =	6 - 3 =	6 - 1 =	6 - 2 =
5 - 5 =	5 - 4 =	5 - 2 =	5 - 0 =

11

écrits

Ecris le résultat des additions.

10 + 8 - 9 =	70 + 0 =	50 + 40 =	57 + 10 =	2 + 8 - 2 =
10 + 9 - 2 =	80 + 2 =	10 + 70 =	14 + 20 =	3 + 7 - 5 =
10 + 10 - 3 =	70 + 7 =	50 + 10 =	62 + 20 =	7 + 3 - 7 =
10 + 7 - 8 =	60 + 3 =	80 + 10 =	53 + 30 =	9 + 1 - 8 =
10 + 6 - 7 =	50 + 4 =	70 + 20 =	44 + 30 =	8 + 2 - 1 =
10 + 5 - 7 =	90 + 5 =	60 + 30 =	39 + 60 =	5 + 5 - 3 =

