

Fiche d'exercices 7

Décompositions additives - le zéro - Les euros: - Ordre
Nombres de 5 à 10 - Additions - Soustractions



1

écrits


Complète les configurations pour obtenir le nombre demandé.

5			
6			
7			
8			
9			

2

colorie

Fais les échanges.



3

écrits

Ecris les nombres.

$$8 - 2 = 6 - 9$$



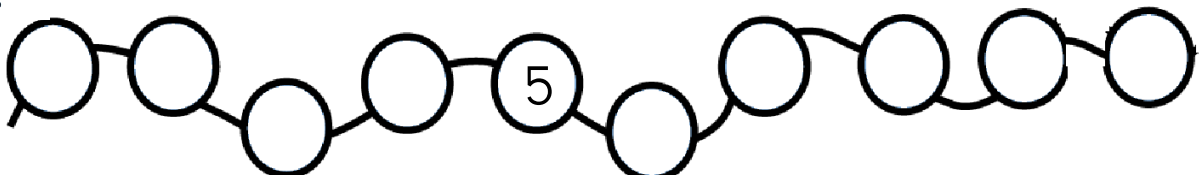
$$8 - 3 = 9 - 5$$



4

écrits

Ecris les nombres dans les cases.



1






5



Colorie les cubes pour construire les maisons des nombres puis écris les égalités.



..... + =

..... + =

..... + =

..... + =

..... + =

6



Complète les boîtes et les additions.

• • • 3 - 2 = 1

• • • 3 - 1 =

• • • • 4 - 0 =

• • • • 4 - 3 =

• • • • • 5 - 2 =

• • • • • 5 - 4 =

7



Ecris le résultat des additions.

..... + =

..... + =

..... + =

..... + =

4 + 2 =

3 + 1 =

0 + 3 =

2 + 3 =

0 + 2 =

0 + 1 =

3 + 2 =

2 + 0 =

1 + 0 =

2 + 4 =

1 + 3 =

3 + 0 =



Fiche d'exercices 7

Décompositions additives - le zéro - Les euros: - Ordre
Nombres de 5 à 10 - Additions - Soustractions



1


écrits

Complète les configurations pour obtenir le nombre demandé.

5			
6			
7			
8			
9			

2


colle Fais les échanges.




3

écrits Ecris les nombres.

$$8 - 2 = 6 - 9 = 4$$



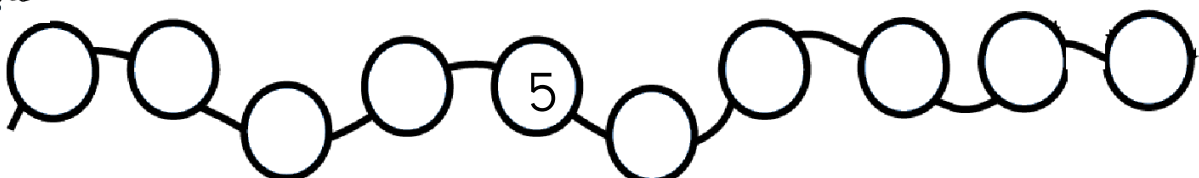
$$8 - 3 = 9 - 5 = 4$$



4

écrits

Ecris les nombres dans les cases.



1




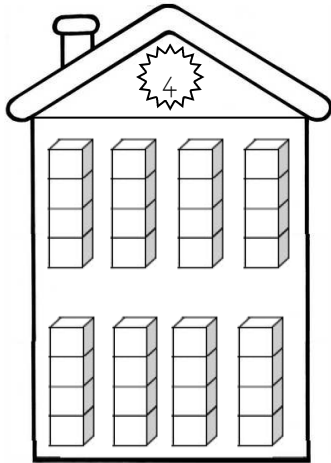


5



Colorie les cubes pour construire les maisons des nombres puis écris les égalités.

$$\begin{aligned} \dots + \dots &= 4 \\ \dots + \dots &= 4 \\ \dots + \dots &= 4 \\ \dots + \dots &= 4 \\ \dots + \dots &= 4 \end{aligned}$$



$$\begin{aligned} \dots + \dots &= 5 \\ \dots + \dots &= 5 \\ \dots + \dots &= 5 \\ \dots + \dots &= 5 \\ \dots + \dots &= 5 \\ \dots + \dots &= 5 \end{aligned}$$

6



Complète les boîtes et les additions.

● ● ● ● $4 - 0 = \dots$

● ● ● ● ● $5 - 4 = \dots$

● ● ● ● $4 - 3 = \dots$

● ● ● ● ● $5 - 1 = \dots$

● ● ● ● $4 - 2 = \dots$

● ● ● ● ● $5 - 3 = \dots$

● ● ● ● $4 - 1 = \dots$

● ● ● ● ● $5 - 2 = \dots$

7



Ecris le résultat des additions.

● ● | $\dots + \dots = \dots$

● ● | $\dots + \dots = \dots$

● ● | $\dots + \dots = \dots$

● ● ● | $\dots + \dots = \dots$

$0 + 0 = \dots$

$1 + 1 = \dots$

$2 + 2 = \dots$

$2 + 3 = \dots$

$0 + 2 = \dots$

$0 + 1 = \dots$

$3 + 2 = \dots$

$2 + 0 = \dots$

$1 + 0 = \dots$

$2 + 4 = \dots$

$1 + 3 = \dots$

$3 + 0 = \dots$

$4 + 2 = \dots$

$3 + 1 = \dots$

$0 + 3 = \dots$

