

Fiche d'exercices 8

Décompositions additives - le zéro - Les euros: - Ordre
Nombres de 5 à 10 - Additions - Soustractions



1


écrits

Complète les configurations pour obtenir le nombre demandé.

5			
6			
7			
8			
9			
10			

2

colorie Fais les échanges.



3

écrits Ecris les nombres.

3 - 8 - 2 - 6



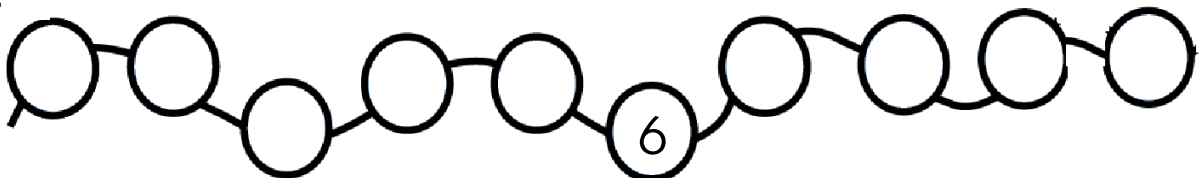
1 - 8 - 6 - 4



4

écrits

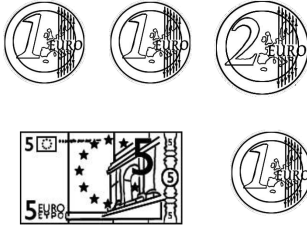
Ecris les nombres dans les cases.




5  **colorie** Colorie les pièces.



3 €



6  **colorie** Ecris les égalités.



..... + = 5
 + = 5
 + = 5
 + = 5
 + = 5

7  **écrits** Complète les boîtes et les soustractions.

• • • 3 - 1 =

• • • 3 - 3 =

• • • • 4 - 2 =

• • • • 4 - 1 =

• • • • • 5 - 3 =

• • • • • 5 - 5 =

8  **écrits** Ecris le résultat des additions.

  + =

  + =

  + =

  + =

3 + 2 =

2 + 0 =

1 + 0 =

2 + 4 =

1 + 3 =

3 + 0 =

2 + 3 =

0 + 2 =

0 + 1 =

4 + 2 =

3 + 1 =

0 + 3 =



Fiche d'exercices 8

Décompositions additives - le zéro - Les euros: - Ordre
Nombres de 5 à 10 - Additions - Soustractions



1

écrits

Complète les configurations pour obtenir le nombre demandé.

5			
6			
7			
8			
9			
10			

2

écrits

Ecris les nombres .

7 - 3 - 5 - 1 - 6

7 - 2 - 8 - 4 - 1

--	--	--	--	--

--	--	--	--	--

3

colorie Fais les échanges .

4


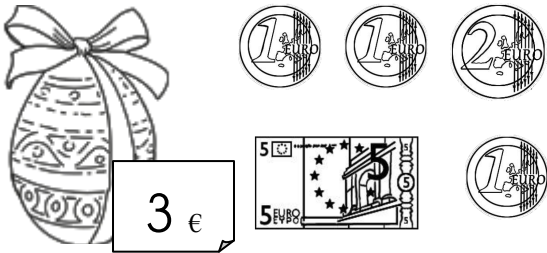
écrits

Ecris les nombres dans les cases.


1



5 **colorie** Colorie les pièces.



6 **colorie** Ecris les égalités.



..... + = 5
 + = 5
 + = 5
 + = 5
 + = 5
 + = 5

7 **écrits** Complète les boîtes et les additions.

● ● ● ● 4 - 1 =

● ● ● ● ● 5 - 5 =

● ● ● ● 4 - 2 =

● ● ● ● ● 5 - 1 =

● ● ● ● 4 - 3 =

● ● ● ● ● 5 - 3 =

● ● ● ● 4 - 4 =

● ● ● ● ● 5 - 2 =

8 **écrits** Ecris le résultat des additions.

  + =

  + =

  + =

  + =

2 + 3 =

0 + 2 =

0 + 1 =

2 + 4 =

1 + 3 =

3 + 0 =

0 + 0 =

1 + 1 =

2 + 2 =

3 + 2 =

2 + 0 =

1 + 0 =

4 + 2 =

3 + 1 =

0 + 3 =